

DIGITAL UNDERVISNING FRA DYREPARKEN

5.-7.TRINN: DYR SOM SOVER

HVILKE DYR SOVER MEST?

Sett ring rundt riktig dyr.

1)



Eller




2)



Eller



3)



Eller



DIGITAL UNDERVISNING FRA DYREPARKEN



5.-7.TRINN: DYR SOM SOVER

BONUSOPPGAVE

Vet du hva dyrene i første oppgave heter? Skriv riktig navn i boksene under bildene.

HVILKE AV DISSE DYRENE BYGGER REDER?

Sett kryss under riktig dyr.



SNAKK OM I KLASSEN:

- 1) Hvorfor må dyr sove?
- 2) Må alle dyr sove?
- 3) Hvor lenge sover et menneske hver dag?
- 4) Hvorfor sover løver så mye?
- 5) Hvorfor tør ikke sebraer legge seg ned og sove i 8 timer?
- 6) Hvilke dyr sover aller mest?
- 7) Hvilke dyr sover minst?
- 8) Hvorfor sover delfiner bare med halve hjernen av gangen?
- 9) Vet du om noen andre dyr som sover med halve hjernen av gangen?
- 10) Hvilke dyr sover opp ned?
- 11) Hvilke dyr kan sove på et bein?



5.-7.TRINN: DYR SOM SOVER

DVALE ELLER VINTERSØVN

Noen dyr går i dvale om vinteren og noen sover vintersøvn. Sett kryss i riktig boks etter hvert dyr.

| | Går i dvale | Sover vintersøvn |
|---|--------------------------|--------------------------|
|  | <input type="checkbox"/> | <input type="checkbox"/> |
|  | <input type="checkbox"/> | <input type="checkbox"/> |
|  | <input type="checkbox"/> | <input type="checkbox"/> |
|  | <input type="checkbox"/> | <input type="checkbox"/> |
|  | <input type="checkbox"/> | <input type="checkbox"/> |



DIGITAL UNDERVISNING FRA DYREPARKEN

5.-7.TRINN: DYR SOM SOVER

TEGNING

Lag en tegning av et dyr som sover.

HISTORIER

- 1) Skriv en historie om hva dyret du har tegnet drømmer mens det sover.
- 2) Gå sammen to og to og fortell hverandre om en morsom drøm du har hatt en gang.

OPPGAVE

En bjørn går i hi og legger seg til å sove vintersøvn 1. november og står opp igjen 30. april.
Hvor mange måneder har bjørnen sovet?

MATTEOPPGAVER

- 1) Tre sjiraffer bytter på å holde vakt og å sove. En sjiraff sover en time, den andre sjiraffen sover to timer og den tredje sover tre timer.
Hvor mange timer har de tre sjiraffene sovet til sammen?
Sett opp regnestykket og regn ut.
- 2) En flokk med fire løver legger seg til å sove under et tre. De sover alle i 20 timer hver.
Hvor mange timer har løveflokken sovet til sammen?
Sett opp regnestykket og regn ut.
- 3) Ildmaur sover ett minutt om gangen. I en maurtue sover den ene mauren 140 ganger i løpet av ett døgn, en annen sover 110 ganger, en tredje maur nummer sover 205 ganger og den fjerde mauren sover 145 ganger. Hvor mye sover de fire maurene til sammen?
Sett opp regnestykket og regn ut.



DIGITAL UNDERVISNING FRA DYREPARKEN
5.-7.TRINN: DYR SOM SOVER



SLEEP

DOLPHIN

LION

SLOTH

NEST

SHARK



